

受検番号	
------	--

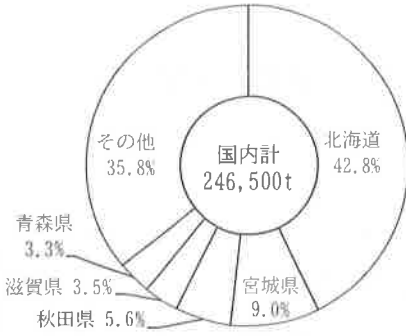
# 社 会

## 注 意

- 1 開始の合図があるまで、問題用紙を開いてはいけません。
- 2 解答は、全て解答用紙に記入しなさい。
- 3 解答を選択肢から選ぶ問題は、記号で書きなさい。
- 4 問題用紙は、冊子の形になっています。
- 5 問題は、表紙の裏を1ページとし、6ページまであります。開始の合図で問題用紙の各ページを確認し、始めなさい。
- 6 問題用紙の表紙と解答用紙の受検番号欄に、それぞれ受検番号を記入しなさい。

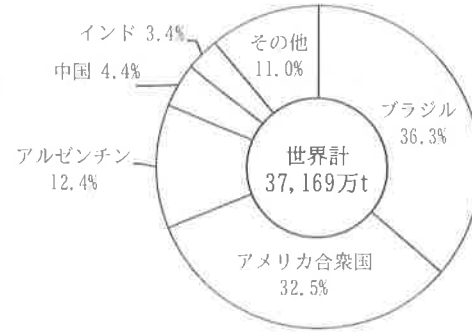
1 大豆の生産や貿易について、資料や略地図をみて、後の1から5までの各問いに答えなさい。

資料1 大豆の国内生産割合(2021年)



〔「日本国勢図会 2022/23」より作成〕

資料2 大豆の国別生産割合(2021年)



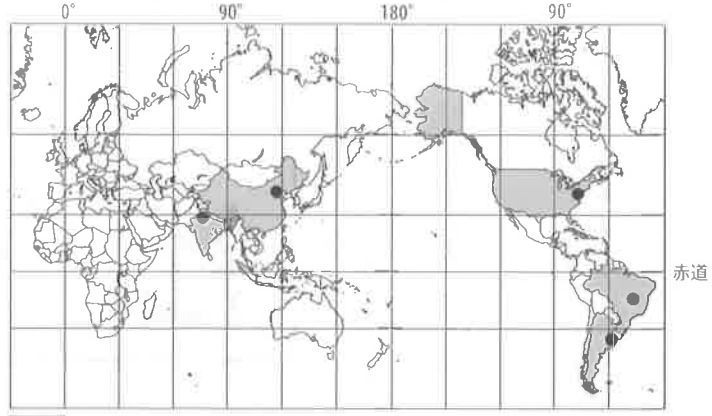
〔「世界国勢図会 2023/24」より作成〕

略地図1



■：資料1の上位5道県

略地図2



■：資料2の上位5か国 ●：資料2の上位5か国の首都

1 資料1, 資料2, 略地図1, 略地図2から読み取れることとして適切なものはどれか。次のアからエまでのの中から1つ選び、記号で書きなさい。

- ア 国内の大豆の生産上位5道県で、国内の大豆の生産量の80%以上をしめている。
- イ 国内の大豆の生産上位5道県のうち、東北地方の3県は日本海に面している。
- ウ 国内の大豆の生産量は、世界の大豆の生産量の1%より多い。
- エ 世界の大豆の生産上位3か国の首都は、経度が西経で表される西半球に位置している。

2 次の文は、略地図1に で示した地域について説明したものです。この文について、後の(1), (2)の問いに答えなさい。

この地域に広がる( )は日本有数の畑作地帯です。多くの農家では、耕地をいくつかの区画に分けて、同じ場所で栽培する作物を年ごとに変えることで、地力の低下を防ぐ工夫をしています。

(1) 文の( )にあてはまる語句を、次のアからエまでのの中から1つ選び、記号で書きなさい。

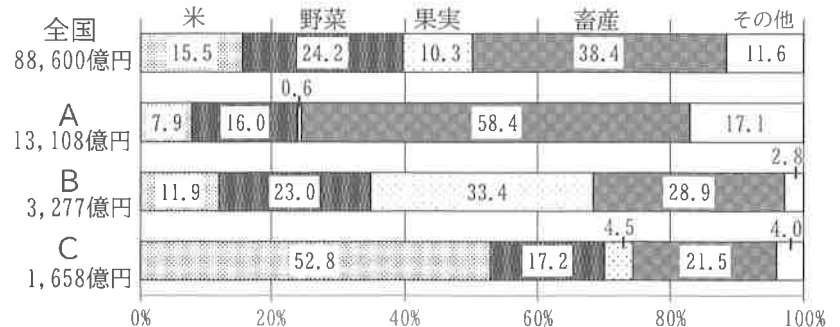
- ア 仙台平野 イ 石狩平野 ウ 十勝平野 エ 津軽平野

(2) 文の下線部を何というか。漢字2字で書きなさい。

3 資料3は、資料1の北海道、秋田県、青森県における農業産出額を示したものです。資料3のA, B, Cは、北海道、秋田県、青森県のいずれかです。3道県の組み合わせとして正しいものを、次のアからカまでのの中から1つ選び、記号で書きなさい。

資料3 農業産出額の割合(2021年)

- ア A:北海道 B:秋田県 C:青森県
- イ A:北海道 B:青森県 C:秋田県
- ウ A:秋田県 B:北海道 C:青森県
- エ A:秋田県 B:青森県 C:北海道
- オ A:青森県 B:北海道 C:秋田県
- カ A:青森県 B:秋田県 C:北海道



〔農林水産省ホームページより作成〕

4 資料2のブラジルとアメリカ合衆国について、次の(1)、(2)の問いに答えなさい。

(1) 資料4は、ブラジル、アメリカ合衆国、日本の3か国について、国土面積と、領海と排他的経済水域をあわせた面積の比率を示したものです。資料4のD、E、Fは、ブラジル、アメリカ合衆国、日本のいずれかです。3か国の組み合わせとして正しいものを、次のアからカまでの中から1つ選び、記号で書きなさい。

資料4

国	国土面積：領海と排他的経済水域をあわせた面積
D	1 : 11.8
E	1 : 0.8
F	1 : 0.4

[国土交通省資料などより作成]

- ア D:ブラジル E:アメリカ合衆国 F:日本    イ D:ブラジル E:日本 F:アメリカ合衆国  
 ウ D:アメリカ合衆国 E:ブラジル F:日本    エ D:アメリカ合衆国 E:日本 F:ブラジル  
 オ D:日本 E:ブラジル F:アメリカ合衆国    カ D:日本 E:アメリカ合衆国 F:ブラジル

(2) 資料5は、ブラジルとアメリカ合衆国のおもな輸出品と輸出額を示したものです。資料5のアからエは、ブラジルの1965年、ブラジルの2017年、アメリカ合衆国の1965年、アメリカ合衆国の2017年のいずれかです。ブラジルの1965年と、ブラジルの2017年はどれか。資料5のアからエまでの中からそれぞれ1つずつ選び、記号で書きなさい。

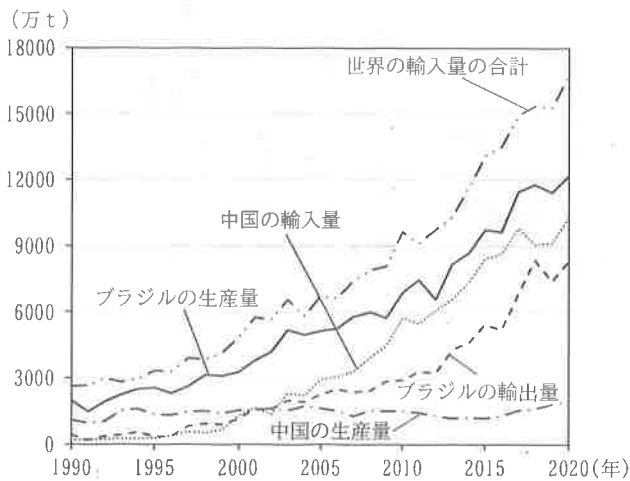
資料5

順位	ア		イ		ウ		エ	
	輸出品	輸出額 (百万ドル)	輸出品	輸出額 (百万ドル)	輸出品	輸出額 (百万ドル)	輸出品	輸出額 (百万ドル)
第1位	機械類	384,541	コーヒー豆	707	機械類	6,743	大豆	25,718
第2位	自動車	125,737	鉄鉱石	103	自動車	1,980	鉄鉱石	19,199
第3位	石油製品	83,403	綿花	96	航空機	1,096	機械類	17,609
	輸出額の合計	1,545,609	輸出額の合計	1,595	輸出額の合計	27,346	輸出額の合計	217,739

[「数字でみる日本の100年」より作成]

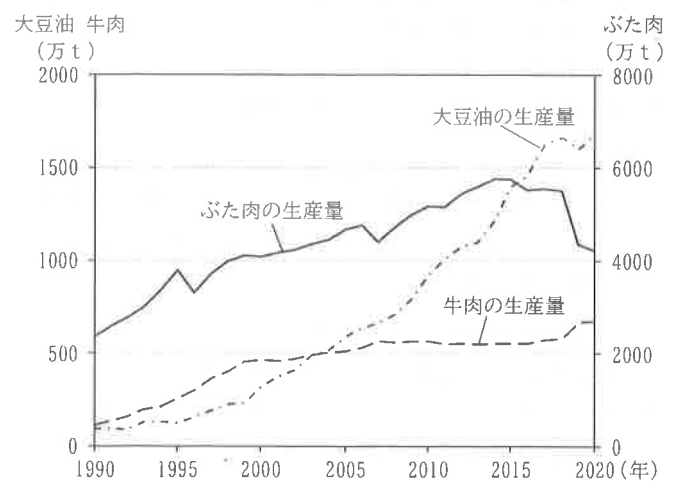
5 資料2のブラジルと中国について、資料6、資料7、表をみて、後の(1)、(2)の問いに答えなさい。

資料6 ブラジルと中国の大豆の生産量と貿易量の推移



[「世界国勢図会 2023/24」などより作成]

資料7 中国の大豆油、牛肉、ぶた肉の生産量の推移



[「世界国勢図会 2023/24」などより作成]

表 ブラジルと中国における1990年以降の大豆の生産と貿易の比較

国	ブラジル	中国
大豆の生産と貿易	世界における大豆の需要が高まり、( G )。	大豆の生産量は少し増加しているが、( H )。

(1) 表の( G )にあてはまる適切な内容を、資料6を参考にして、次のアからエまでの中から1つ選び、記号で書きなさい。

- ア 大豆の生産量が増え、輸出量も増えていった    イ 大豆の生産量が増え、輸出量は減っていった  
 ウ 大豆の生産量が減り、輸出量は増えていった    エ 大豆の生産量が減り、輸出量も減っていった

(2) 表の( H )にあてはまる適切な内容を、資料6と資料7を参考にして考え、「需要」という語句を用いて、25字以上、40字以内で書きなさい。

2 「日本の歴史上のできごと」と「滋賀県の文化財や史跡」についてまとめた表、略地図1をみて、後の1から8までの各問いに答えなさい。

表

時代区分	日本の歴史上のできごと	関連する滋賀県の文化財や史跡（略地図1）
古代	ヤマト王権（大和政権）の統一が進む	[古保利（こほり）古墳群] ①前方後円墳など130を超える古墳群
	大宝律令が定められる	[近江国府（庁）跡] ②近江国の役所の跡
（ A ）	鎌倉幕府や室町幕府が成立する	[沙沙貴（ささき）神社] 近江国の③守護ゆかりの神社
	戦国大名が争う	[小谷（おだに）城跡] ④戦国大名である浅井氏の城の跡
（ B ）	織田信長が全国統一をめざす	[⑤安土城跡・長浜城跡・坂本城跡・大溝（おおみぞ）城跡] 織田信長らが築いた城の跡
	江戸幕府が成立する	[⑥彦根城] 彦根藩主（大名）による独自の政治が行われた城
（ C ）	明治政府（明治新政府）による改革が進む	[滋賀県庁舎] ⑦滋賀県の政治の中心として建てられた庁舎

1 表の（ A ）から（ C ）にあてはまる時代区分の組み合わせとして正しいものを、次のアからイまでの中から1つ選び、記号で書きなさい。

- ア A:近世 B:近代 C:中世  
 イ A:近世 B:中世 C:近代  
 ウ A:中世 B:近代 C:近世  
 エ A:中世 B:近世 C:近代  
 オ A:近代 B:中世 C:近世  
 カ A:近代 B:近世 C:中世

2 表の下線部①に関連して、前方後円墳などの古墳がさかんに造られた3世紀後半から6世紀の世界のできごととして正しいものを、次のアからエまでの中から1つ選び、記号で書きなさい。

- ア オランダがスペインから独立した。  
 イ 朝鮮半島で高句麗・百済・新羅が争った。  
 ウ ナポレオンがヨーロッパの大部分を支配した。  
 エ 秦の始皇帝が中国を統一した。

3 表の下線部②に関連して、この頃の地方の役人について正しく説明したものを、次のアからエまでの中から1つ選び、記号で書きなさい。

- ア 国司は都から派遣され、郡司は地方豪族が任命された。      イ 国司と郡司は都から派遣された。  
 ウ 郡司は都から派遣され、国司は地方豪族が任命された。      エ 国司と郡司は地方豪族が任命された。

4 表の下線部③に関連して、次の文は鎌倉幕府と室町幕府のしくみについてまとめたものです。文には、誤っている語句が1つあります。誤っている語句を下線部アからウまでの中から1つ選び、記号と正しい語句を書きなさい。

鎌倉幕府では ア 執権 がおかれ、北条氏がその地位につきました。国ごとにおかれた守護が、イ 御家人 を京都の警備にあたらせるなどの役割を担いました。

室町幕府では將軍の補佐として ウ 老中 がおられました。守護の中には国内の武士を家来として支配する者も現れました。

略地図1



5 表の下線部④に関連して、資料1は、ある戦国大名が定めた分国法の一部です。資料1を定めた戦国大名とその支配領域(略地図2のaまたはb)の組み合わせとして正しいものを、次のアからエまでの中から1つ選び、記号で書きなさい。

- ア 北条氏-a      イ 北条氏-b  
ウ 朝倉氏-a      エ 朝倉氏-b

資料1 戦国大名が定めた分国法

一 当家の館の他に、国内に城を構えてはいけない。領地をもつ者は、一乗谷に引っ越し、それぞれの領地には代官をおくこと。  
(一部要約)

略地図2



6 表の下線部⑤に関連して、ノート1、ノート2をみて、後の(1)、(2)の問いに答えなさい。

ノート1 〈安土城に関するノート〉

資料2 安土城に関する宣教師の記録

著作権保護のため削除

[ルイス・フロイス「日本史」より一部要約]

資料3 姫路城

著作権保護のため削除

資料2・3のメモ

安土城には資料2に説明されているような( X )が築かれ、のちに姫路城などにも築かれました。

ノート2 〈4つの城に関するノート〉

略地図1をみると、4つの城は、安土などの( Y )にあることがわかります。これは、( Y )に築くことで、水運や防衛上の利点を活かすためと考えられています。

- (1) ノート1の( X )にあてはまる語句を書きなさい。  
(2) ノート2の( Y )にあてはまる、4つの城が築かれた場所の特徴を10字以内で書きなさい。

7 表の下線部⑥の彦根城は、世界遺産登録をめざしています。略地図3のアからエは、世界遺産に登録された、古代文明に関する遺跡の場所を示しています。また、ノート3は古代文明の文字についてまとめたものです。ノート3の( Z )にあてはまる場所を、略地図3のアからエまでの中から1つ選び、記号で書きなさい。

略地図3



ノート3 〈古代文明の文字に関するノート〉

資料4

著作権保護のため削除

資料4のメモ

- ・資料4の印には文字が書かれています。
- ・今から4000年以上前、略地図3の( Z )に、建物や水路が計画的に配置された都市を中心に文明が生まれ、資料4の文字が使われたとされています。

8 表の下線部⑦に関連して、略年表と資料5をみて、次の(1)、(2)の問いに答えなさい。

略年表

- (1) 略年表の下線部に関連して、廃藩置県による地方の政治の変化について、表、略年表、資料5を参考にして考え、「国家」という語句を用いて、45字以上、60字以内で説明しなさい。  
(2) 略年表の矢印で示した期間におこった次のアからウまでのできごとを、年代の古い順に、記号でならべかえなさい。

年	滋賀県のおもなできごと
1871年	廃藩置県が行われ、いくつかの県が置かれる
1872年	ほぼ現在の形の滋賀県が誕生する 初代の県令が政府から派遣される
1888年	滋賀県庁舎が現在の場所に移される
1939年	現在の滋賀県庁舎本館が完成する
↑↓	
2022年	滋賀県政150周年をむかえる

- ア 第1回滋賀県知事選挙が行われた。  
イ 滋賀県と中華人民共和国の湖南省が友好提携を結んだ。  
ウ 滋賀県内を通る東海道新幹線が開通した。

資料5 廃藩置県を命じた詔

藩を廃止し、県とする。これは、政策や法令がばらばらになることがないようにするためである。

〔「法令全書」より一部要約〕

**3** 地方自治について、次の1から3までの各問いに答えなさい。

1 資料1をみて、次の(1)、(2)の問いに答えなさい。

- (1) 資料1の下線部①について、地方自治は、地域の人々が直接に参加しながら地域のことを合意で決めていく経験を積めることから、何とよばれているか。7字で書きなさい。
- (2) 資料1の下線部②について、現代社会では情報化が進展しています。情報化の進展にともない、日本国憲法を根拠にして保障されるようになった新しい人権について正しく説明しているものを、次のアからエまでのの中から1つ選び、記号で書きなさい。

**資料1 滋賀県情報公開条例**

(前文の一部)

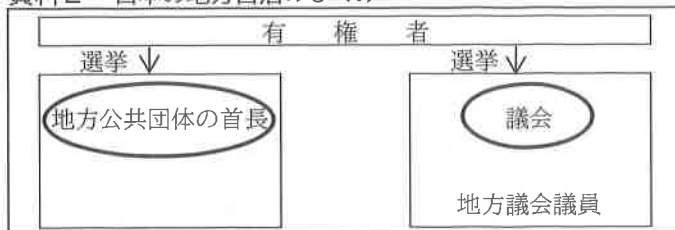
地方分権による真の①自治を確立するためにも、県民と県の相互の信頼関係をより確かなものにし、県民主役の県政を進めていく必要があります。そのためますます②情報公開の重要性が高まってきている。

[滋賀県ホームページより作成]

- ア 裁判所に法律上の権利の実現を求める「裁判を受ける権利」  
 イ 労働者が雇用者と対等な立場で交渉できる「団体交渉権」  
 ウ 国に対して人間らしい生活を求めることができる「生存権」  
 エ 私生活が他人から干渉されない「プライバシーの権利」

2 資料2、資料3、メモをみて、後の(1)から(3)までの問いに答えなさい。

**資料2 日本の地方自治のしくみ**

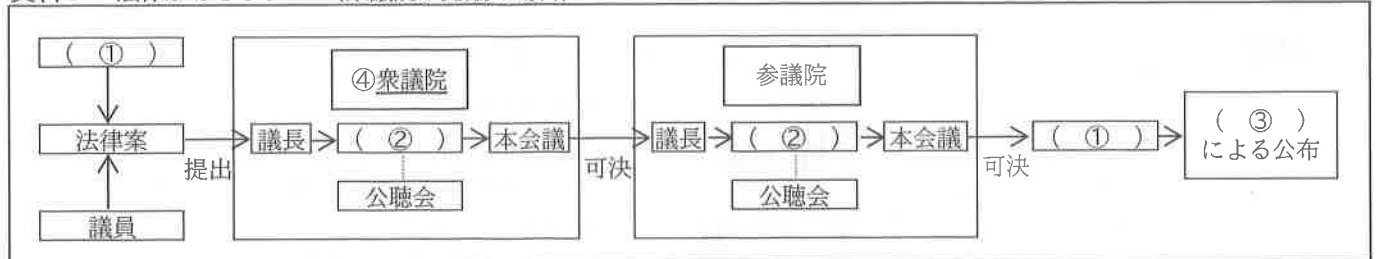


**メモ**

日本の地方公共団体の首長と、国政における内閣総理大臣の選び方は異なっている。

- ・地方公共団体の首長は、( )。
- ・内閣総理大臣は、議院内閣制の下で選ばれる。

**資料3 法律ができるまで (衆議院が先議の場合)**



(1) メモの( )にあてはまる適切な内容を、資料2を参考にして、次のアからエまでのの中から1つ選び、記号で書きなさい。

- ア 有権者が選挙により地方公務員を選び、地方公務員の中から選ばれる  
 イ 有権者が選挙により選んだ地方議会議員の中から、地方議会で選ばれる  
 ウ 有権者による選挙で、直接選ばれる  
 エ 有権者が選挙により選んだ国会議員の中から、話し合いで選ばれる

(2) 資料3の(1)から(3)にあてはまる語句を、次のアからオまでのの中からそれぞれ1つずつ選び、記号で書きなさい。

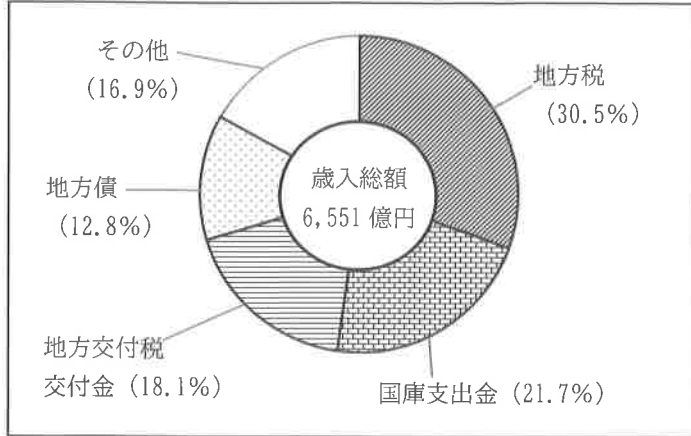
- ア 天皇 イ 委員会 ウ 省庁 エ 裁判所 オ 内閣

(3) 資料3の下線部④について、正しく説明しているものを、次のアからエまでのの中から1つ選び、記号で書きなさい。

- ア 衆議院だけが、不適任だと思われる裁判官がいれば弾劾裁判を行うことができる。  
 イ 衆議院は、予算の議決において参議院より優先されることが認められている。  
 ウ 衆議院は、天皇の国事行為に対して助言と承認を与えることができるが、参議院はできない。  
 エ 衆議院だけが、法律などに憲法違反がないか判断することができる。

3 資料4から資料7, ノートをもて, 後の(1)から(3)までの問いに答えなさい。

資料4 滋賀県の歳入とその内訳(2020年度)



〔「データでみる県勢 2023」より作成〕

資料5 所得税の税率

課税される所得金額	税率
1,000円 ~ 1,949,000円まで	5%
1,950,000円 ~ 3,299,000円まで	10%
3,300,000円 ~ 6,949,000円まで	20%
6,950,000円 ~ 8,999,000円まで	23%
9,000,000円 ~ 17,999,000円まで	33%
18,000,000円 ~ 39,999,000円まで	40%
40,000,000円以上	45%

※課税される所得金額は、1,000円未満の端数金額を切り捨てる後の金額

※(参照例) 課税対象になる所得が300万円の場合、所得税は、 $195 \text{万円} \times 0.05 + (300 \text{万円} - 195 \text{万円}) \times 0.1 = 20 \text{万} 2,500 \text{円}$

〔国税庁ホームページより作成〕

資料6 滋賀県グリーン購入基本方針

(「1 基本的な考え方」の一部)

グリーン購入の推進に当たっての基本的考え方は以下のとおりとし、県は率先してグリーン購入を実行し、関係事業者等にも協力を求めるとともに、県民、事業者による広範な取組の普及を図ります。

- (例)
- ・物品等の総量を節減する。
  - ・物品等の必要数量を計画的に調達する。
  - ・物品等の調達に当たっては、資源採取から廃棄に至るライフサイクル全体を考慮する。

〔滋賀県ホームページなどより作成〕

資料7 商品選択のめやすとなるマーク



ノート 〈グリーン購入についてまとめたノート〉

(自立した消費者となるために、私たちにできること)

- ・マイバッグ、マイボトルを活用する。
- ・容器や包装が少なくゴミの出にくいもの、リユース、リサイクルできるものを選ぶ。
- ・商品を購入する際は、資料7のようなマークがついているものを参考にして選ぶ。

(1) 資料4について、正しく説明しているものを、次のアからエまでのの中から1つ選び、記号で書きなさい。

- ア 地方税と国庫支出金の金額の差は、700億円以上である。  
 イ 最も多い財源である地方税には、間接税である相続税が含まれている。  
 ウ 国から支払われ、使いみちが特定される財源は歳入総額の20%以上である。  
 エ 地方債は国から地方へ配分される財源であり、地方交付税交付金より少ない。

(2) 次の文は、日本の税の公平性について説明したものです。文の( A ), ( B )にあてはまる語句の組み合わせとして正しいものを、後のアからエまでのの中から1つ選び、記号で書きなさい。

日本の所得税では、税負担の公平性を保つため、資料5のようなしくみがとられています。例えば、このしくみで課税対象になる所得が600万円の人の所得税を計算すると、90万円より( A )金額となります。

また、消費税は、所得が異なる人でも消費額に応じて同じ割合で税を負担するものです。消費税は、所得が( B )人ほど税負担が重くなるという逆進性をもっています。

- ア A:高い B:高い イ A:高い B:低い ウ A:低い B:高い エ A:低い B:低い

(3) 次の文は、滋賀県が取り組んでいるグリーン購入の目的を説明したものです。文の( )にあてはまる適切な内容を、資料6、資料7、ノートを参考にして考え、「環境」という語句を用いて、15字以上、25字以内で書きなさい。

滋賀県が取り組んでいるグリーン購入の目的

滋賀県が率先して( )により、社会全体で環境の保全が進むことを目的としています。また、商品を生産する企業にもグリーン購入の目的に合った製品の開発を促すことで、経済活動全体を変えていくことも目的としています。

※印の欄には何も記入しないこと。

1

※

1																
2	(1)															
	(2)															
3																
4	(1)															
	(2)	ブラジルの 1965年														
5	(1)															
	(2)	ブラジルの 2017年														

2

※

1																
2																
3																
4	誤っている 語句の記号											正しい語句				
5																
6	(1)															
	(2)															

7

8	(1)															
	(2)	→ →														

3

※

1	(1)																			
	(2)																			
2	(1)																			
	(2)	①											②					③		
	(3)																			
3	(1)																			
	(2)																			
	(3)																			

※