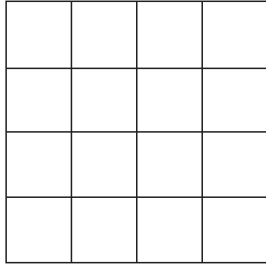


# 初級相当例題 教養-3

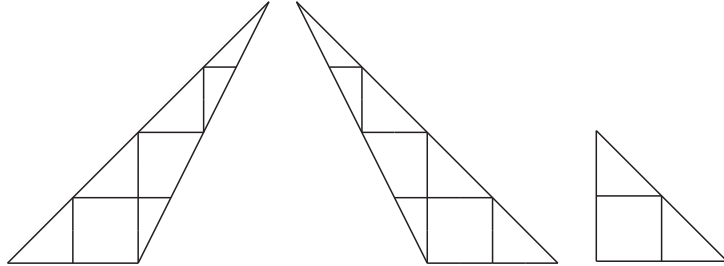
正方形の紙を用意し、図Ⅰのように紙の表側に16等分する線を引いた。この紙を五つの紙片に切り分けたとき、そのうちの三つが図Ⅱのようであったとき、残りの二つとして妥当なものをア～エのうちから選んでいるのはどれか。

ただし、紙は裏返さないものとする。

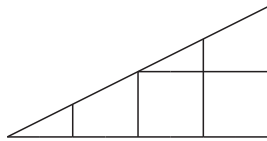
図Ⅰ



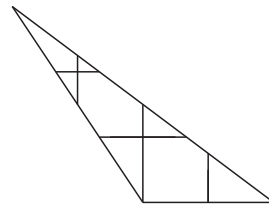
図Ⅱ



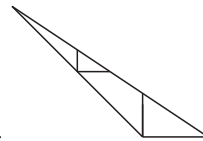
ア.



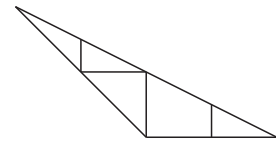
イ.



ウ.



エ.



1. ア, イ
2. ア, ウ
3. ア, エ
4. イ, ウ
5. イ, エ

**正答 3**