

受検番号	
------	--


社 会

注 意

- 1 開始の合図があるまで、問題用紙を開いてはいけません。
- 2 解答は、全て解答用紙に記入下さい。
- 3 解答を選択肢から選ぶ問題は、記号で書き下さい。
- 4 問題用紙は、冊子の形になっています。
- 5 問題は、表紙の裏を1ページとし、7ページまであります。開始の合図で問題用紙の各ページを確認し、始め下さい。
- 6 問題用紙の表紙と解答用紙の受検番号欄に、それぞれ受検番号を記入下さい。

1 春子さんのクラスでは、歴史の学習のまとめとして自分たちで課題を設定し、調べたことを発表するため、日本の国宝であり、世界遺産でもある建造物から4つを選び、その建造物が建てられた時代の日本の様子について、カードAからカードDにまとめました。さらに、秋夫さんと話し合いながら、その頃に日本が外国とどのように関わっていたのかについても略年表にまとめ、ポスターを作成しました。後の1、2の各問いに答えなさい。

ポスター

略年表		カードA 法隆寺
年	日本と外国との交流に関するおもなできごと (関連する日本の文化)	
239	卑弥呼が魏に使者を送る (渡来人により漢字が伝えられる)	この寺を建てたと伝えられる聖徳太子は、十七条の憲法を制定するなど天皇中心の政治制度を整えた。
538	(百済から仏教が伝えられる)	
607	遣隋使が派遣される 法隆寺が建てられる	
806	(最澄が天台宗を開く)	
894	遣唐使の派遣が停止される	
905	(「古今和歌集」の仮名序が書かれる)	
1000年頃	(「源氏物語」がひらがなで書かれる)	
1053	平等院鳳凰堂が建てられる	
1274 1281	元が襲来する	都では、摂関政治が全盛期を迎え、地方では、武士の集団が源氏と平氏を中心にまとまりはじめた。
(あ)		
1404	明との正式な貿易が始まる	
1543	鉄砲が伝わる	
(い)		
1613	全国でキリスト教が禁止される	
1617	日光東照宮が建てられる	
(う)		関ヶ原の戦いに勝利した徳川家康は、江戸幕府を開いた。その後、幕府は武家諸法度を定め、参勤交代の制度を整えた。
1639	ポルトガル人の来航が禁止される	
(え)		
1853	ペリーが来航する	
1854	日米和親条約が結ばれる	
1858	日米修好通商条約が結ばれる	
1871	岩倉使節団が欧米諸国に派遣される	
1872	富岡製糸場が建てられる	
1883	(鹿鳴館が建てられる)	外国人技術者を招き、欧米の進んだ技術や機械を取り入れ、郵便制度や鉄道網などを整備した。
1889	(大日本帝国憲法が公布される)	
1894	陸奥宗光の交渉により不平等条約が一部改正される	

1 春子さんは、仏教に関する建造物であるカードAとカードBに関連したことについて調べています。次の(1)から(3)の問いに答えなさい。

- (1) カードAの法隆寺が、中国から伝えられた技術により建てられているように、この頃の文化は中国など海外の影響を強く受けている。この文化を何というか。書きなさい。
- (2) カードBの平等院鳳凰堂が建てられた時代における日本の文化の特色を、中国との関係にふれながら説明しなさい。
- (3) 春子さんは、渡来人によって伝えられた仏教に関わる日本の歴史について調べました。次のアからエまでのできごとを年代の古い順にならべかえなさい。

- ア 加賀（石川県）では、一向宗の信者が中心となって守護大名を倒した。
- イ 比叡山で修行した親鸞が、法然の弟子となった後、浄土真宗を開いた。
- ウ 鑑真が、日本に渡ろうとして何度も遭難した末に来日することができた。
- エ 遣唐使とともに唐に渡った空海が、真言宗を日本に伝え金剛峯寺を建てた。

2 春子さんと秋夫さんは、略年表を作成しながら日本と外国との関係について話し合っています。後の(1)から(4)の問いに答えなさい。

話し合い1

秋夫さん：略年表を作成してみると、日本には外国との交流を盛んにおこなったり、あまりおこなわなかったりした時があることがわかるね。

春子さん：そうだね。江戸時代に入ってすぐの頃には、交流を盛んにおこなっていたけれど、カードCの頃から、江戸幕府は外国との交流を制限するようになっていったんだ。

秋夫さん：その後、①ヨーロッパの国では、出島でオランダだけが貿易を許されたんだよね。

(1) カードCの日光東照宮には徳川家康がまつられているが、徳川家康が外交政策としておこなったことについて、最も適切なものはどれか。次のアからエまでのの中から1つ選びなさい。

- ア 対馬藩のなかだちで朝鮮との国交を回復し、朝鮮からの使者と会見した。
- イ 大名や商人に勘合符を発行することにより、貿易を統制下においた。
- ウ キリシタン大名とともにローマ教皇のもとへ4人の少年を派遣した。
- エ ポルトガル人、イギリス人の後から来たスペイン人にも貿易の許可を与えた。

(2) 下線部①について、オランダ商館が平戸から長崎の出島に移されたのは、略年表のどの期間にあてはまるか。略年表の(あ)から(え)までのの中から1つ選びなさい。

話し合い2

春子さん：江戸幕府はペリーの来航がきっかけとなって開国したけれど、反対はなかったのかな。

秋夫さん：開国に反対の長州藩は、攘夷を実行しようとしたんだよ。でも、②ある事件がきっかけとなって攘夷の考えを変えたんだ。

春子さん：だから、明治政府になってからも、外国との交流が盛んにおこなわれたんだ。

秋夫さん：カードDの③富岡製糸場は、殖産興業政策のもと建てられたんだね。

資料 1864年に長州で撮影された写真

- (3) 下線部②について、長州藩が攘夷の考えを変えたのはなぜか。資料を参考に、理由を書きなさい。
- (4) 下線部③の建設以後も明治政府はさらに殖産興業政策をおし進めたが、その理由は何か。略年表を参考に、岩倉使節団が派遣された目的との関連がわかるように説明しなさい。



芭蕉が見たように、高館義経堂の点Aから周囲を眺めると、資料1に書かれている点Bの金鶏山山頂が（ア）の方角にある。高館義経堂の点Aから金鶏山山頂の点Bまでは地形図上で2cmであったため、実際の直線距離は（イ）kmとなる。

(3) 地形図上で、金色堂の付近にある線Cから線Fのうち、両端の標高差の最も小さい線はどれか。CからFまでの中から1つ選びなさい。

3 若菜さんは、芭蕉が訪れた地域の現在の農業について調べ、資料2、資料3を見つけ話合っています。資料2、資料3のG、H、Iは山形県、新潟県、富山県のいずれかである。3県の正しい組み合わせはどれか。後のアからカまでの中から1つ選びなさい。

資料2 面積・人口・耕地面積等

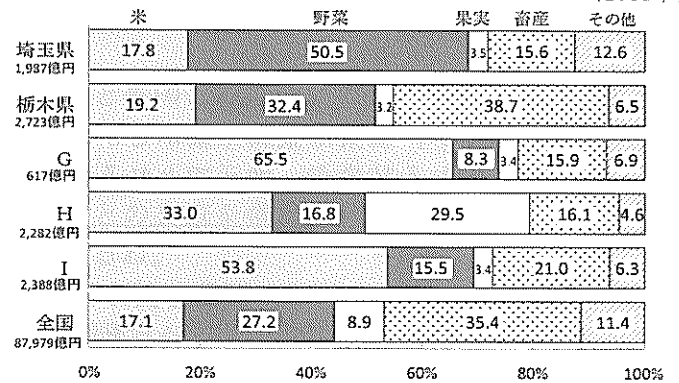
(2016年)

	面積 (Km^2)	人口 (万人)	耕地面積 (ha)	耕地面積に占める田の割合 (%)
埼玉県	3,798	719	75,800	55.4
栃木県	6,408	197	124,200	78.0
G	4,248	107	58,700	95.6
H	9,323	112	119,400	79.0
I	12,584	231	171,300	88.7

〔「データブック オブ ザ ワールド 2018」などより作成〕

資料3 農業産出額の割合

(2015年)



〔「データでみる県勢 2018年版」より作成〕

- ア G 山形県 H 新潟県 I 富山県 イ G 山形県 H 富山県 I 新潟県
 ウ G 新潟県 H 山形県 I 富山県 エ G 新潟県 H 富山県 I 山形県
 オ G 富山県 H 山形県 I 新潟県 カ G 富山県 H 新潟県 I 山形県

話し合い

静香さん：資料3を見ると、埼玉県や栃木県では、野菜の産出額の割合が、全国の割合に比べて多いね。

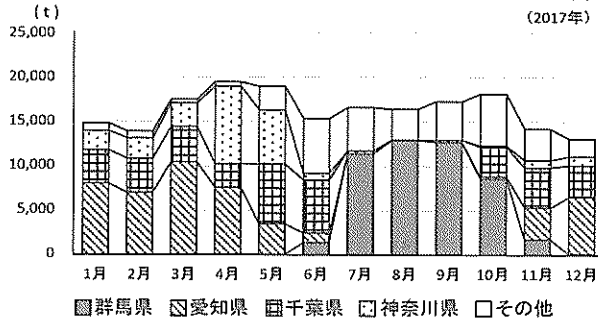
健太さん：そうだね。関東地方では近郊農業がおこなわれているからかな。

若菜さん：自然環境の影響もあるかもしれないね。関東地方の北部地域での、自然環境をいかした野菜生産について調べてみるよ。

4 若菜さんは、栽培方法についてさらに調べる中で、資料4、資料5を見つけました。これらの資料から、群馬県では自然環境をどのようにいかした野菜の生産がされているといえるか。群馬県におけるキャベツの生産を例にして書きなさい。

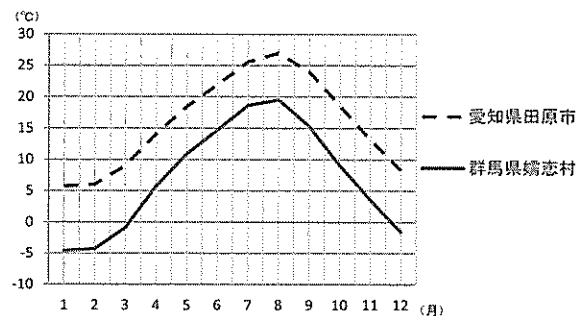
資料4 東京都中央卸売市場におけるキャベツの入荷量

(2017年)



〔東京都中央卸売市場資料より作成〕

資料5 おもなキャベツ産地の月別平均気温



〔気象庁資料より作成〕

- 5 健太さんは、芭蕉が旅の後半で訪れた北陸について調べ、特徴をノートにまとめました。後の(1)、(2)の問いに答えなさい。

健太さんのノート

「北陸について調べたこと」

(地形、気候)

- ・日本海に面した、越後平野や富山平野などの平野が広がっている。
- ・日本海側の気候で、冬は降雪量が多い。

(歴史)

- ・江戸時代初期には藩の政策により、高岡城下（現在の富山県高岡市）に鋳物の職人が集められた。
- ・大正時代には富山県から③米騒動が起こり、全国に広がった。

(産業)

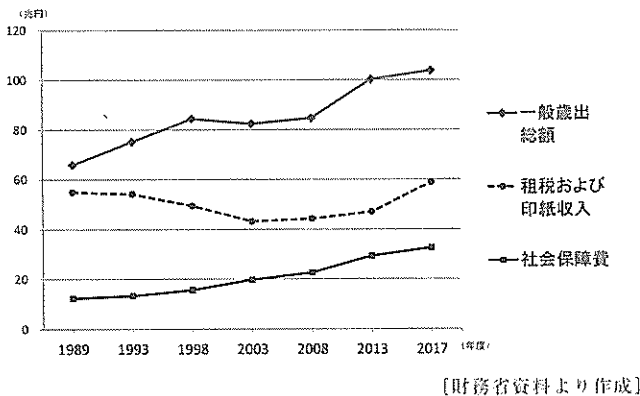
- ・農業は稲作が、工業は金属工業がさかんである。
- ・古くから伝わる技術や、地元でとれる原材料をいかした④地場産業がさかんである。

- (1) 下線部③について、この騒動を受けて当時の内閣が退陣し、立憲政友会の原敬が内閣を組織した。この内閣は、閣僚のほとんどを原敬と同じ立憲政友会の党員が占めていた。このように議会（国会）で多数を占める政党が主となって組織された内閣を何というか。書きなさい。
- (2) 下線部④について、北陸でさかんになった理由は何か。健太さんのノートを参考に「副業」という語を用いて書きなさい。

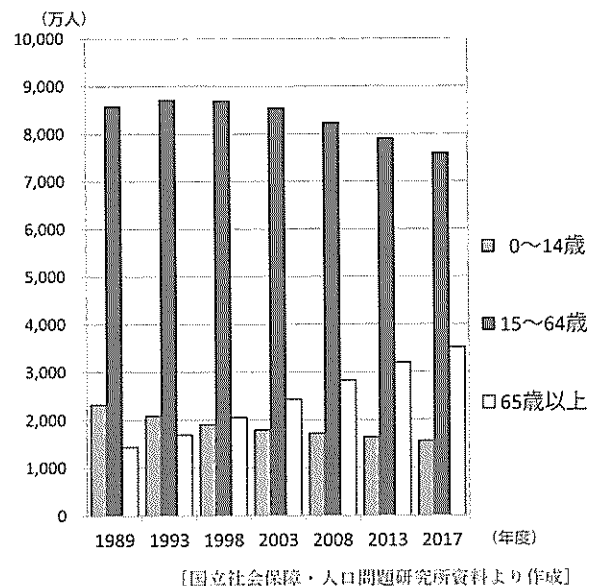
3

太郎さんたちは、公民の学習で、「税と社会保障」について、資料を集めて調べ、ノートにまとめながら話し合っています。後の1から5までの各問いに答えなさい。

資料1 国の一般歳出総額と社会保障費、租税および印紙収入



資料2 日本の年齢3区分別人口



資料3 日本の総人口

年度	1989	1993	1998	2003	2008	2013	2017
人口(万人)	12,326	12,476	12,649	12,760	12,769	12,730	12,671

[国立社会保障・人口問題研究所資料より作成]

1 太郎さんたちは、資料1から資料3をみて、1989年度から2017年度にかけてどのような変化があったのかを考えています。資料1から資料3より読み取れることとして適切なものはどれか。次のアからエまでの中から1つ選びなさい。

- ア 日本の総人口は一貫して増加しているが、租税および印紙収入や一般歳出総額は、減少している時期もある。
- イ 15歳から64歳の人口が減少に転じてからも、10年ほど総人口が増加していたのは、0歳から14歳人口の増加数が、65歳以上人口の減少数を上回っていたからである。
- ウ 租税および印紙収入の額は、一般歳出総額の8割以上であったのが5割以下になった。また、総人口に占める15歳から64歳人口の割合も8割以上であったのが5割以下になった。
- エ 総人口は増加から減少に転じたが、65歳以上の人口は増加しており、一般歳出総額の増減にかかわらず社会保障費も増加している。

話し合い1

太郎さん：資料1の2017年度をみると、一般歳出総額の3分の1程度を社会保障費が占めているよ。
 花子さん：社会保障は、国民が安心して生活できるようにする大切なものだね。
 太郎さん：そうだね。社会保障制度について、調べてみよう。

太郎さんのノート

日本の社会保障制度		メモ
種類	おもな内容	日本国憲法第25条で定めている① <u>生存権</u> に基づいて、社会保障を充実させている。 社会保障制度を支える費用は、社会保険料と国民が納める税金によってまかなわれている。
社会保険	医療保険、介護保険など	
公的扶助	生活扶助、住宅扶助など	
社会福祉	高齢者福祉、児童福祉など	
公衆衛生	感染症対策など	

話し合い2

花子さん：日本の社会保障制度には、②社会保険、公的扶助、社会福祉だけでなく、③公衆衛生も含まれるんだね。
 太郎さん：公衆衛生は、国民の健康を保持・増進させることを目的としているんだ。
 花子さん：太郎さんが調べた公衆衛生のおもな内容のほかにも、行われていることはあるのかな。

- 2 下線部①を含む社会権を世界で初めて規定した憲法は何か。憲法の名称を書きなさい。
- 3 下線部②について、社会保険に含まれる介護保険制度はどのような制度か。説明しなさい。
- 4 下線部③について、公衆衛生のおもな内容としてあてはまるものはどれか。次のアからカまでの中からすべて選びなさい。

- ア 雇用対策 イ 公害対策 ウ 廃棄物処理
- エ 道路整備 オ 教育対策 カ 食料安定対策

話し合い3

花子さん：社会保障の範囲は幅広いね。だから、様々なことにお金がかかるんだね。

太郎さん：そうだね。社会保障制度を維持していくためには、税が必要なんだね。

花子さん：税には、直接税と間接税の2種類があるよ。

太郎さん：代表的な直接税は所得税で、代表的な間接税は消費税だね。

花子さん：それぞれ、どのような特徴があるのかな。表にまとめてみよう。

5 花さんは、租税の分類と特徴などを表1、表2にまとめました。後の(1)から(3)の問いに答えなさい。

表1 租税の分類

	国税	地方税
直接税	所得税 相続税 (a)	事業税 固定資産税 (b)
間接税	消費税 酒税 揮発油税 (c)	地方消費税 たばこ税 ゴルフ場利用税

(1) 表1の空欄(a)から(c)にあてはまるものを、それぞれ次のアからウまでのの中から選びなさい。

ア 関税 イ 自動車税 ウ 法人税

表2 所得税と消費税の比較

	税の種類	納税者と負担者の関係	税の特徴
所得税	直接税	税金を納める人と負担する人が(A)。	所得が高い人ほど税率が高くなるため、税金を納めたあとの所得の格差を小さくする効果がある。 一方で、所得が高い人にとっては高額な税金を払うことになるので負担感が強くなる。
消費税	間接税	税金を納める人と負担する人が(B)。	同じ価格の商品を購入するのであれば税負担は同じである。 一方で、(C)

(2) 表2の空欄(A), (B)にあてはまるものを、それぞれ次のア、イの中から選びなさい。

ア 同じ イ 異なる

(3) 間接税である消費税の特徴をふまえ、表2の空欄(C)にあてはまる適切な文を書きなさい。ただし、「所得」という語を用いること。

※印の欄には何も記入しないこと。

1

※

1	(1)	
	(2)	
	(3)	→ → →
2	(1)	
	(2)	()
	(3)	
	(4)	

2

※

1	(1)	記号	名前
	(2)		
2	(1)		
	(2)	ア	イ
	(3)		
3			

3

※

4	
5	(1)
	(2)

1				
2				
3				
4				
5	(1)	a	b	c
	(2)	A	B	
	(3)			

※