

受検番号

平 2 2

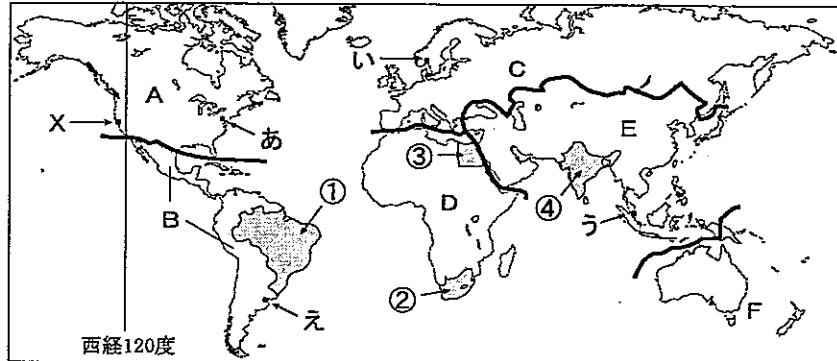
社 会

【1 枚目】

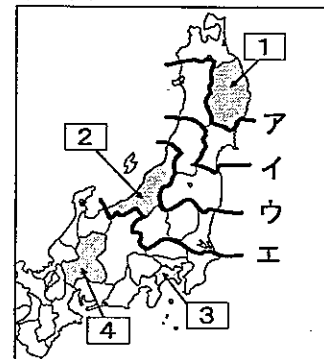
- 1 答えは、すべて、解答用紙の決められた欄に書き入れなさい。  
 注意 2 与えられたいくつかの事項のうちから答えを選ぶ場合は、記号で書きなさい。  
 3 問題用紙は2枚あります。

1 次の略地図1、2、資料1～4、グラフを見て、後の1～3の問いに答えなさい。

略地図1



略地図2

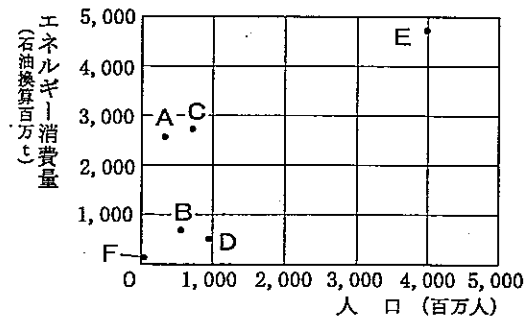


資料1

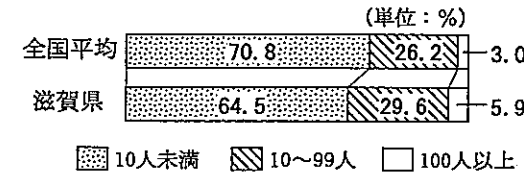
地域	面積 (百万km <sup>2</sup> )	人口(百万人)		エネルギー 消費量 (石油換算百万t) 2006年	自動車 保有台数 (百万台) 2006年
		1970年	2006年		
A	21.8	231	336	2,590	264
B	20.5	286	565	686	73
C	23.0	656	731	2,737	321
D	30.3	367	943	534	18
E	31.9	2,125	3,984	4,713	221
F	8.6	20	34	140	17

【「世界国勢図会2009/10」などより作成】

資料2 A～Fの各地域の人口とエネルギー消費量(2006年)



資料4 従業者規模別の製造事業所数の割合(2007年)



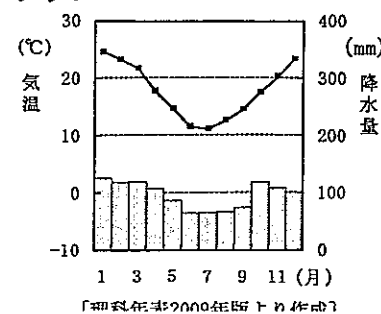
【資料3、4は、「データでみる県勢2010」などより作成】

資料3

	a	b	c	d	滋賀県	全国平均
農業産出額(百億円)	25	12	8	27	6	18
漁業生産量(百t)	2,154	17	565	401	20	1,217
小売業年間商品販売額(百億円)	132	211	855	258	136	287
製造品出荷額(百億円)	264	594	2,030	526	725	721
製造事業所数(百事業所)	41	156	184	130	57	103

- 1 略地図1とグラフを見て、次の(1)～(3)の問いに答えなさい。  
 (1) 略地図1のあ～えは、4つの都市の位置を示しており、右のグラフは、この4つの都市のいずれかの雨温図である。どの都市のものか。あ～えから1つ選びなさい。

グラフ



【資料年表2000年版より作成】

- (2) 略地図1のXは、西経120度の経線上の時刻を標準時とする都市の位置を示している。関西国際空港から3月9日の午後2時15分に出発した航空機が、9時間45分かかってXに到着した。到着時のXの日付と時刻を答えなさい。ただし、サマータイムは考えないものとし、時刻には午前または午後をつけて書きなさい。

- (3) 次の [ ] に述べていることがすべてあてはまる国を略地図1の①～④から1つ選び、その国名を書きなさい。ただし、①～④は現在の国を示している。

- 国土の一部は熱帯に属している。
- 近年、米、小麦、綿花の生産量は世界の上位である。
- 第二次世界大戦後、イギリスから独立した。

- 2 略地図1と資料1、2を見て、次の(1)、(2)の問いに答えなさい。ただし、略地図1、資料1、資料2のA～Fは、それぞれ同じ地域を示している。

- (1) 資料1から読みとれることを、次のア～オからすべて選びなさい。  
 ア Aの地域では、2006年に1人あたり1台の自動車を保有していることになる。  
 イ 2006年の人口密度は、Bの地域よりもDの地域の方が高い。  
 ウ Cの地域の自動車保有台数は、世界の半分以上を占めている。  
 エ 1970年から2006年の間で、人口の増加率が最も高いのはEの地域である。  
 オ Eの地域のエネルギー消費量は、Fの地域の30倍以上である。

- (2) 次の [ ] の文は、Dの地域の特徴について述べたものである。資料1をもとに作成した資料2を見て、( ) にあてはまる語句を書きなさい。

Dの地域の特徴は、他の地域と比べると、( ) が最も少ないことである。

- 3 略地図2と資料3、4を見て、次の(1)～(3)の問いに答えなさい。

- (1) 略地図2で、東北地方と、中部地方および関東地方の境目はどこか。ア～エから1つ選びなさい。  
 (2) 資料3は、2007年の農業産出額などについてまとめたものであり、資料3のa～dは、略地図2の [ ]～[ ] の県のいずれかである。aにあてはまる県はどこか。県名を書きなさい。  
 (3) 資料3、4から、滋賀県の製造業は、全国平均と比べてときどのような特徴が見られるか。書きなさい。

- 2 わが国の文化や教育の歴史について、資料1～6、表、略年表を見て、後の1～6の問いに答えなさい。

資料1

著作権確認中

【漢委奴国王」と刻まれた金印】

資料2

【鑑真和上東征絵伝】

表

時代	A	B	C	D	E
縄文					
弥生					
古墳					
飛鳥					
奈良					
平安					
鎌倉					
室町					
安土・桃山					
江戸					

- 1 資料1は、中国の皇帝からあたえられたと考えられる金印である。金印があたえられた時代を、表のA～Eから1つ選びなさい。

- 2 遣唐使船のようすを描いた資料2を見て、次の(1)～(3)の問いに答えなさい。  
 (1) 遣唐使とともに鑑真がわが国に渡ってきた時代を、表のA～Eから1つ選びなさい。また、遣唐使は、唐の国際色豊かな文化や進んだ政治制度をもち帰った。唐の法律にならい、701年に定められた刑罰や政治のきまりを何というか。書きなさい。

【2枚目に続く】



※印の欄には何も記入しないこと。

1

※

1	(1)		(2)	
	(3)	(番号)	(国名)	
2	(1)			
	(2)			
3	(1)		(2)	
	(3)			

2

※

1				
2	(1)	(時代)	(きまり)	(2)
	(3)			
3				
4				
5	(1)		(2)	
6	(1)			
	(2)	A	B	C
	(3)			

3

※

1	(1)				
	(2)				
2	(1)		(2)		(3)
3	(1)				
	(2)				

※