

受検番号	
------	--

社 会

注 意

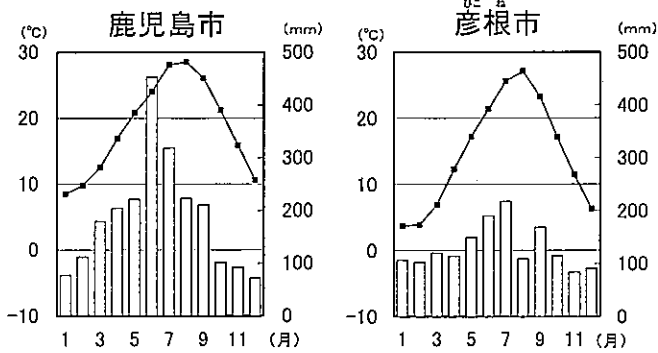
- 1 開始の合図があるまで、問題用紙を開いてはいけません。
- 2 解答は、全て解答用紙に記入下さい。
- 3 解答を選択肢から選ぶ問題は、記号で書き下さい。
- 4 問題用紙は、冊子の形になっています。
- 5 問題は、表紙の裏を1ページとし、7ページまであります。開始の合図で問題用紙の各ページを確認し、始め下さい。
- 6 問題用紙の表紙と解答用紙の受検番号欄に、それぞれ受検番号を記入下さい。

1

春菜さんのクラスでは、社会科の時間に、九州地方の各県を調べることになりました。春菜さんのグループは鹿児島県を担当することになり、グループのメンバーで分担して資料を集めて調べることにしました。後の1から6までの各問いに答えなさい。

春菜さんが集めた資料

雨温図



〔理科年表 平成28年〕より作成

写真 桜島



資料1 鹿児島県の地形別面積割合 (単位: %)

	山地	台地	低地	その他
鹿児島県	70.6	20.8	8.4	0.2
全国	73.7	11.2	13.9	1.2

〔データでみる県勢2016〕より作成

1 春菜さんたちは鹿児島県の気候の特徴を知るため、鹿児島市と彦根市の雨温図を比較した。鹿児島市の気候の特徴を適切に表しているものはどれか。次のアからエまでの中から1つ選びなさい。

- ア 夏の気温は彦根市とあまり変わらず、降水量は1年を通して彦根市よりも多い。
- イ 冬は彦根市よりも10度以上気温が高く、降水量も少ない。そのため暖かく乾燥した冬になる。
- ウ 1年を通して彦根市よりも気温が高い。7月と8月に雨が多く、両月で600mm以上の雨が降る。
- エ 彦根市と比べ、夏と冬の気温の差は小さいが降水量の差は大きい。年降水量は2000mmを超える。

春菜さん：鹿児島県では写真の桜島が有名だね。降灰のニュースを聞いたことがあるよ。
 夏樹さん：自然環境は農業や生活に影響を及ぼすね。
 秋彦さん：資料1を見ると全国に比べて低地が少なく、台地が多いね。
 冬美さん：調べてみると、鹿児島県には火山灰など①火山活動にともなう噴出物が積み重なってできた台地が多いことがわかったよ。
 春菜さん：②こうした台地はどのように利用されているのかな。

2 下線部①について、このようにしてできた台地は何と呼ばれているか。書きなさい。

地形図



〔国土地理院1:50,000地形図「鹿屋」(平成6年修正)を拡大して作成〕

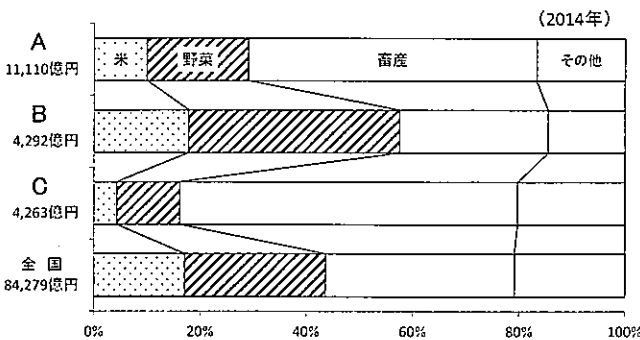
3 春菜さんたちは下線部①のような台地の一部が含まれた地形図を見つけた。この地形図を見て次の(1), (2)の問いに答えなさい。

- (1) 地形図のA地点とB地点の標高差は何mか。書きなさい。
- (2) 下線部②について、地形図に円で示したCの範囲内の土地はどのように利用されているか。書きなさい。

春菜さん：鹿児島県ではどのような産業が行われているのかな。
 夏樹さん：農業のさかんな県だと聞いたことがあるね。
 秋彦さん：鹿児島県の農業に関する資料を探してみたよ。

秋彦さんが集めた資料

資料2 農業産出額上位の道県の産出額の割合



〔農林水産省「農林水産統計」より作成〕

資料3 鹿児島県の農業産出額上位品目

順位	品目	産出額 (億円)	全国順位 (10位以内)
1	肉用牛	959	1位
2	豚	763	1位
3	ブロイラー	580	2位
4	鶏卵	281	3位
5	米	183	-
6	さつまいも	177	1位
7	茶	150	2位
8	さとうきび	99	2位

※ブロイラー：食用用の鶏

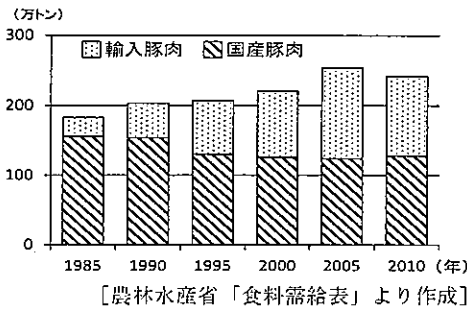
〔鹿児島県農政部「かごしまの農業」などより作成〕

4 資料2のAからCは農業産出額の全国1～3位の道県で、北海道、茨城県、鹿児島県のいずれかを示している。鹿児島県はどれか。資料3を参考にして、AからCまでの中から1つ選びなさい。

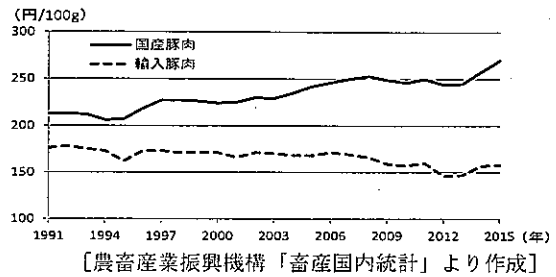
春菜さん：資料3を見ると鹿児島県は豚の産出額が全国1位だね。
 夏樹さん：鹿児島県の黒豚は有名だよ。
 秋彦さん：③輸入豚肉に対抗する工夫もされているのかな。
 冬美さん：日本の豚肉についての現状と、④鹿児島県の豚肉生産においてどのような取り組みがされてきたか、調べてみたよ。

冬美さんが集めた資料

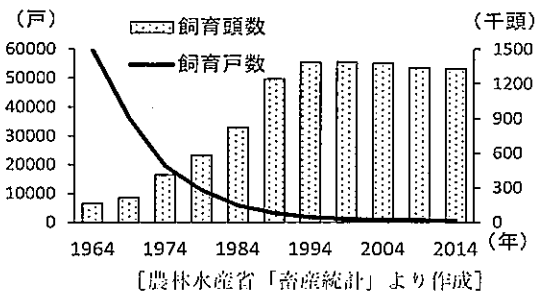
資料4 豚肉の国内生産量と輸入量の推移



資料5 日本国内での豚肉（ロース）の価格差



資料6 鹿児島県の豚の飼育頭数と飼育戸数の推移




資料7 鹿児島県における豚肉の生産について

- ・明治時代より継続的に豚の品種改良に取り組み、品質の向上を図る。
- ・安全でおいしい黒豚肉の生産を促進し、かごしま黒豚のブランドを確立するため「鹿児島県黒豚生産者協議会」を設立。
- ・肉質を向上させるため、えさにさつまいもを配合している。

【鹿児島県黒豚生産者協議会資料より作成】

資料8 かごしま黒豚証明書



鹿児島県黒豚生産者協議会より

黒豚証明書とはかごしま黒豚ブランド産地指定基準をクリアし「かごしまブランド産地」に指定された生産者グループのみが使用できます。
 かごしま黒豚出荷の際に生産者・出荷年月日・証明書番号を記入した「かごしま黒豚証明書」を添付し、販売店等まで流通します。

【鹿児島県黒豚生産者協議会資料より作成】

資料9 消費者へのアンケート調査で
かごしま黒豚が1位になった項目

- ・安全性に信頼がおける
- ・産地のイメージがよい
- ・価格にみあった価値がある
- ・味がよい
- ・産地や生産履歴の表示がわかりやすい

(2008年3月 4,494人に調査)

【日本政策金融公庫資料より作成】

5 下線部③について、資料4、資料5から、国産豚肉と輸入豚肉の現状についてどのようなことがいえるか。次の文の空欄（ア）と（イ）にあてはまる語をそれぞれ書きなさい。

国産豚肉と輸入豚肉の価格差は年々広がってきているが、2010年までの15年間、（ア）の生産量がほぼ一定であるのに対し、豚肉の（イ）は2005年まで増加がみられるが、2010年は2005年より減っている。

6 下線部④について、輸入豚肉に対抗するため鹿児島県の豚肉生産者はどのような工夫をしてきたか。資料4から資料9を参考に、「経営規模」、「ブランド」という語を両方用いて説明しなさい。

2

花子さんは、幕末から明治時代の社会の変化に興味をもち、この時代のおもなできごとを略年表にまとめ、資料を集めました。後の1から5までの各問いに答えなさい。

略年表

年代	おもなできごと
1850年代	アメリカ船に食料や水などの提供を認める条約を結ぶ アメリカとの貿易を認める条約を結ぶ・・・A
1860年代	貿易により国内の綿織物業が打撃を受ける・・・① 薩摩藩や長州藩などが倒幕をめざす・・・B 物価の上昇などから、打ちこわしや一揆が多発する 「五箇条の御誓文」がだされる・・・C
1870年代	文明開化がすすむ・・・D
1880年代	大日本帝国憲法が発布される
1890年代	軽工業が発展する・・・②

1 花子さんは、開国をめぐる動きが社会に大きな影響を与えたのではないかと考え、略年表の中のA、Bに注目した。次の(1)、(2)の問いに答えなさい。


- (1) 略年表の中のAについて、この条約名を書きなさい。
- (2) 略年表の中のBについて、倒幕がめざされるなかで「大政奉還」がなされた。「大政」を「奉還」するとはどういうことか。それを行った人物名を挙げて、書きなさい。

2 略年表の中のCについて、資料1は明治政府の政治の方針を示した「五箇条の御誓文」の一部である。資料1の下線部に注目し、資料1、資料2からわかる新政府の政治の方針を書きなさい。

資料1 五箇条の御誓文（一部を抜粋）

一、広ク会議ヲ興シ、万機公論ニ決スヘシ。
一、智識ヲ世界ニ求メ、大ニ皇基ヲ振起スヘシ。

資料2 明治時代の政治について



3 略年表の中のDについて、次の(1)、(2)の問いに答えなさい。

資料3 銀座をえがいた錦絵



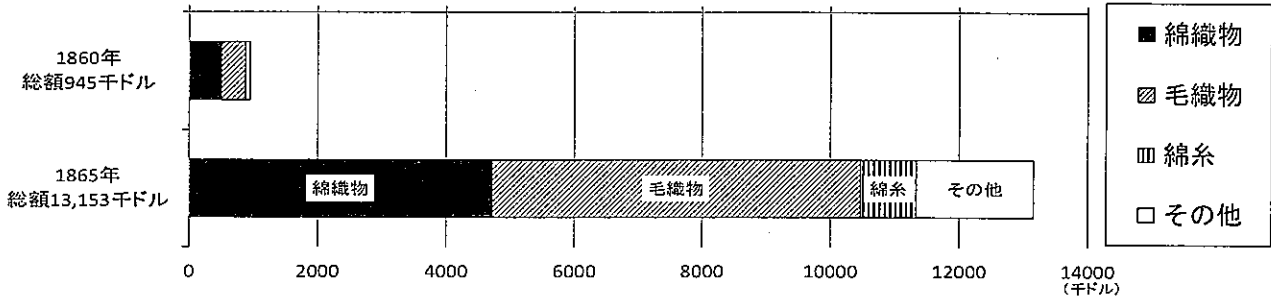
- (1) 資料3の錦絵にえがかれたものの中から、文明開化の様子を表す特徴的なものを、2つ挙げなさい。
- (2) 文明開化のころに、欧米の「自由」や「権利」についての思想を日本に紹介し、社会に影響を与えた人物を、次のアからカまでのの中から2人選び、記号で答えなさい。

- ア 中江兆民 イ 吉野作造 ウ 福沢諭吉
エ 吉田松陰 オ 小林多喜二 カ 本居宣長

4 花子さんは社会の変化には、政治や文化だけではなく、経済や産業の変化も関わっているのではないかと考え、略年表の中の①、②に注目し、綿織物業や紡績業について調べた。次の(1)、(2)の問いに答えなさい。

(1) 略年表の中の①について、開国後、外国との貿易がさかんになっていく中で、国内の綿織物業が打撃を受けたのはなぜか。資料4を参考にして、欧米諸国の産業革命にふれながら、理由を書きなさい。

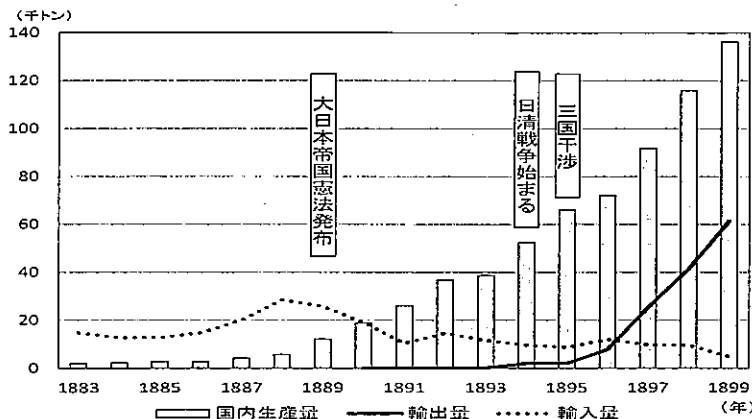
資料4 輸入総額に占める主要輸入品



〔「概説日本経済史」より作成〕

(2) 略年表の中の②について、資料5は1883年から1899年までの綿糸の国内生産量、輸出量、輸入量と、この期間のおもなできごとを示したものである。このグラフについて述べた内容として正しいものを、次のアからエまでの中から1つ選びなさい。

資料5 綿糸の国内生産量と輸出入量の変化



〔「概説日本経済史」より作成〕

- ア 第1回衆議院議員総選挙が行われたころには、輸出量は2万トンを超えていた。
- イ 内閣制度を定めたころには、生産量が増加し、輸入量を超えていた。
- ウ 輸出量が輸入量を超えるのは、下関条約を結んだ後である。
- エ 生産量が6万トンを超えるのは、朝鮮半島で甲午農民戦争が起こる前である。

5 花子さんは、略年表や資料をもとに、1850年代から1890年代の社会の変化を下の表にまとめた。表の中の※印の欄に、1870年代から1890年代の経済や産業の様子を適切に表す文章を書きなさい。ただし、資料5から資料7を参考にし、「輸出」、「殖産興業」、「労働者」という語をすべて用いること。

資料6 1883年開業の紡績工場の様子



資料7 全国の工場労働者数の推移

1882年	74,000人
1890年	234,000人
1900年	489,000人

〔「近代日本経済史要覧」より作成〕

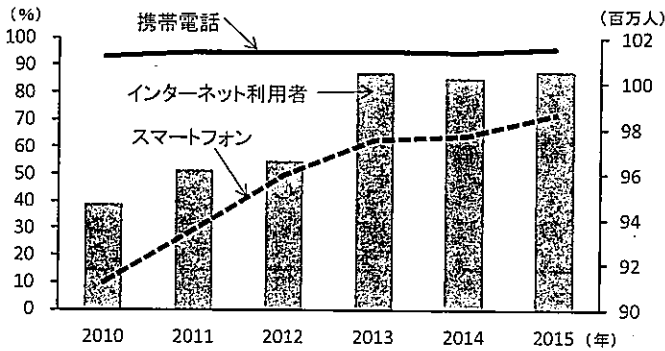
表 花子さんのまとめ

	1850年代～1860年代	1870年代～1890年代
政治や文化	開国により、政治的な対立が生まれ、倒幕運動に発展する。武士の政治が終わり、新政府により政治方針が示された。	文明開化により、人々の生活や考え方が変わる。大日本帝国憲法が發布された。
経済や産業	貿易により、国内の綿織物業に影響がでる。物価の上昇などから、打ちこわしや一揆が多発する。	※

3

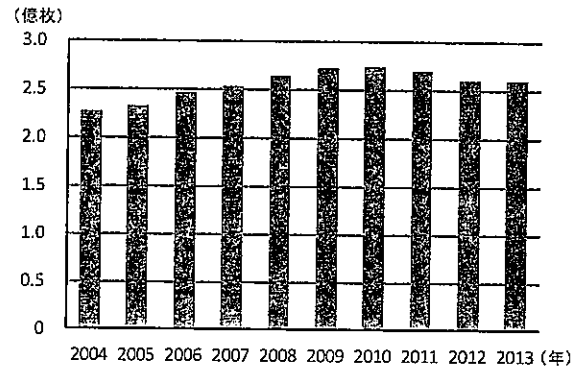
春美さんのグループは「情報化と私たちの生活」についての学習で、資料を集めて話し合いをしています。資料1から資料6を見て、後の1から4までの各問いに答えなさい。

資料1 携帯電話、スマートフォンの普及率とインターネット利用者数の推移



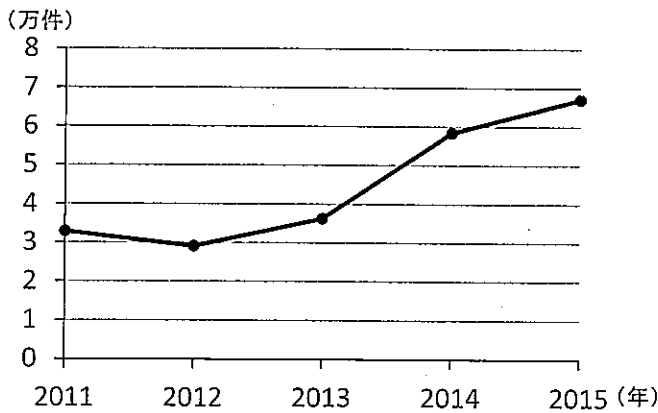
※携帯電話には、スマートフォンを含む
 [総務省「平成28年版情報通信白書」より作成]

資料2 クレジットカードの発行枚数の推移



[「平成28年」日本クレジット協会 年次調査」より作成]

資料3 サイバー犯罪（インターネットを利用した犯罪）のうち、詐欺・悪質商法に関する相談件数の推移



[「平成28年9月 警察庁広報資料」より作成]

グループ内で話し合ったこと

インターネットの便利な点

A 世界中の情報をすぐに調べることができる。

C ウェブページ, SNSなどで自分の作品を発表できる。

E 自宅から商品を注文でき、店に行かなくてもよい。

インターネットの注意する点

B 本当かどうかわからない情報がある。

D 自分の写真や文章が勝手に使われるおそれがある。

健矢さん：資料1を見ると，スマートフォンの普及率が高まり，インターネットの利用者数が増えているね。

夏夫さん：資料2からは，クレジットカードの発行枚数が2007年以降2.5億枚を超えていることがわかるね。

春美さん：クレジットカードを多くの人が利用しているけれど，何か便利な仕組みがあるのかな。

夏夫さん：インターネットで買い物をするのも，自宅に商品を届けてくれるから便利だよ。

順子さん：でも私は，インターネットで買い物をすることには不安があるよ。

健矢さん：インターネットについて，グループ内で話し合ったことを付せんに書いて分類してはどうかな。

春美さん：情報化が進むなかで，私たちの生活がどのように変化しているのか，考えてみようよ。

1 資料2を見て，春美さんはクレジットカードの仕組みについて調べた。クレジットカードの支払い方法の説明について，最も適切なものを，次のアからエまでの中から1つ選びなさい。

- ア 商品を購入したときに，その場で銀行口座から購入した金額が引き落とされる。
- イ あらかじめカードに入金した金額の範囲内で，商品を購入したときにカードから支払う。
- ウ 決まった金額のカードを購入し，その金額の範囲内で，商品の代金を支払う。
- エ 商品を購入したときには代金の支払いは行われず，後日金融機関を通じて支払われる。

2 順子さんは，情報化によって買い物の仕方がさまざまになったため，消費者を保護する法律がないか調べた。消費者の権利の尊重や，国や地方公共団体および事業者の責務等を定めた現在の法律の名称は何というか。書きなさい。

3 健矢さんは，グループ内で話し合ったことのうち，インターネットの便利な点に挙げられた付せんC，Eは，インターネットの注意する点にも分類できると考えた。次の(1)，(2)の問いに答えなさい。

- (1) 付せんCについて，自分の作品をウェブページに発表するときに，侵害してはならない他人の権利は何か。具体的な権利の名称を1つ書きなさい。
- (2) 付せんEが，インターネットの注意する点にも分類できると考えられる理由を，資料3を参考にして，具体的な例を含めて説明しなさい。

4 春美さんは，学習のまとめとして，情報化が進む社会における私たちの生活の変化について考えた。資料4，資料5，資料6のうちから1つを取りあげ，その技術によって，私たちの生活や社会がどのように変わってきたのか，説明しなさい。ただし，下の語群から関係の深い語を1つ選んで用いること。

資料4 POSシステム



資料5 電子マネーでの支払い



資料6 音声入力のパソコン



語群

バリアフリー 流通 現金

社 会

解 答 用 紙

※印の欄には何も記入しないこと。

1

※

1		
2		
3	(1)	m
	(2)	
4		
5	ア	
	イ	
6		

2

※

1	(1)	
	(2)	
2		
3	(1)	
	(2)	

受検番号

4	(1)		
	(2)		
5			

3

※

1			
2			
3	(1)		
	(2)		
4	資料の番号	選んだ語	

※